



製図試験基礎トライアル 単位空間編10(部位)

1. コミュニティセンターの要求室の1つ「研修室」の特記事項において、「約40人が教室形式で利用できる。」とある場合、最も妥当と思われる規模の室を柱、壁、外壁開口、廊下入口、机、いすを記入し、完成させよ。




S. 1/400

2. 1. において、無駄な空白が無く、日常的機能、避難共に支障のない範囲で、最大のもの、及び最小と思われるものを図示せよ。



S. 1/400

最大と思われるもの



S. 1/400

最小と思われるもの